

# DIBUJO ASISTIDO POR ORDENADOR

EJERCICIOS

Y

PRACTICAS

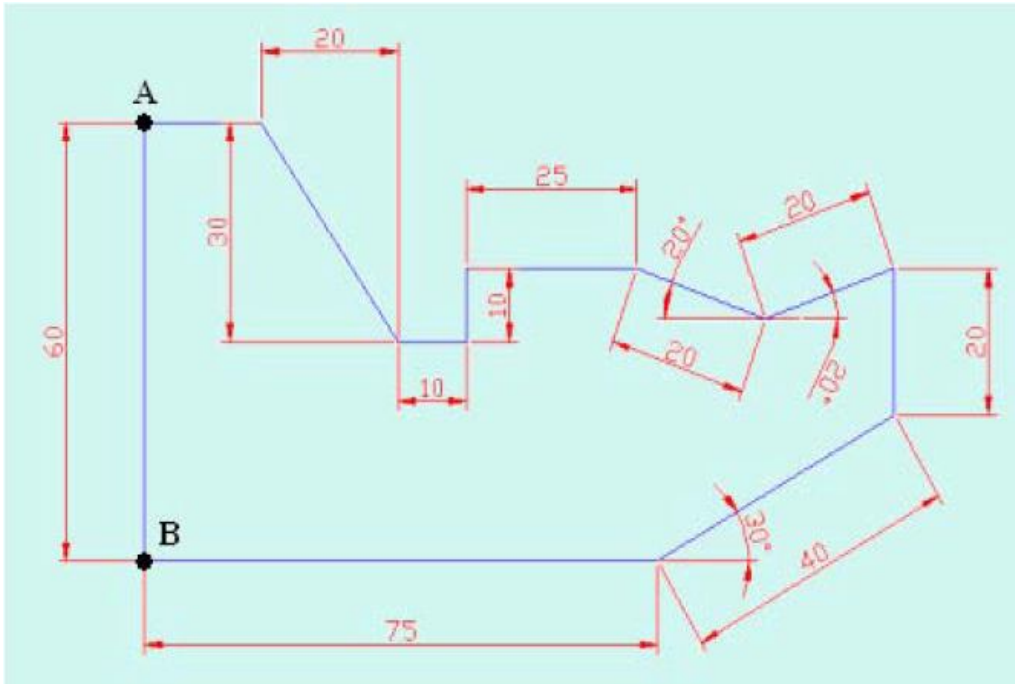
MODULO: Técnicas de Montaje de Instalaciones (1º I.F.C.)

PROFESOR: JOSE GALVEZ

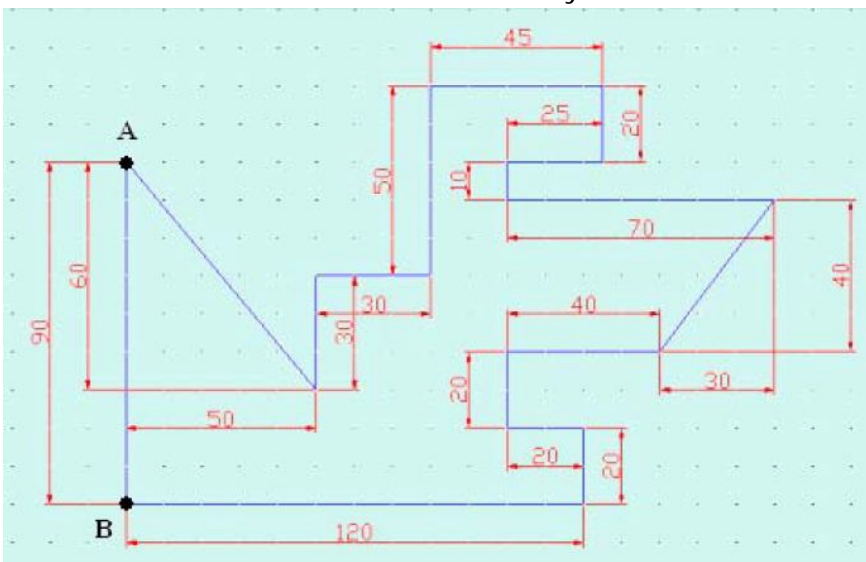
# EJERCICIOS

**EJERCICIO N° 1:**

Realiza la siguiente figura empleando el comando línea e introduciendo las coordenadas correctas.

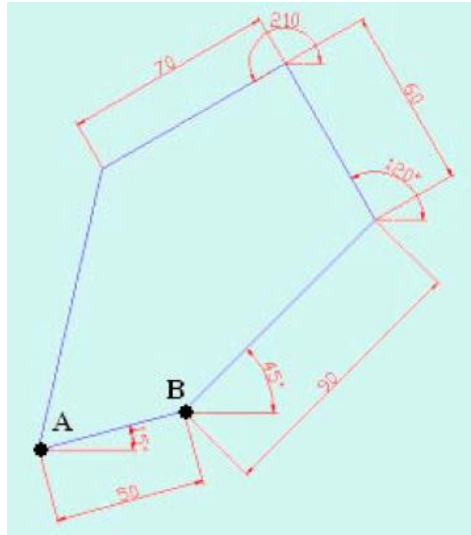
**EJERCICIO N° 2:**

Práctica de herramientas RESOLUCION and REJILLA

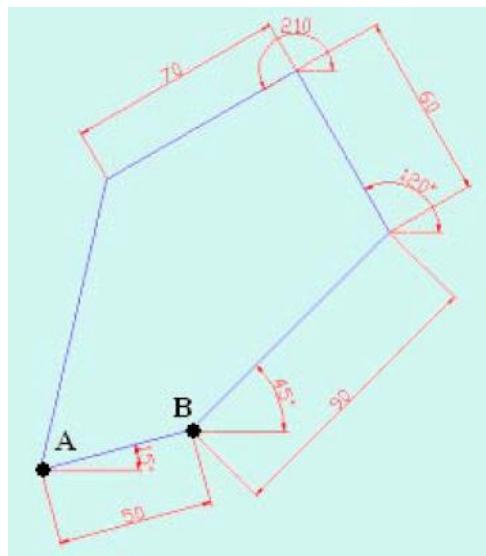


**EJERCICIO N° 3:**

Dibuja la siguiente figura empleando la herramienta RASTREO POLAR (ABSOLUTO).

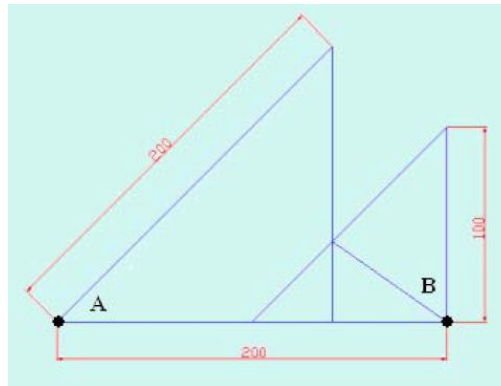
**EJERCICIO N° 4:**

Dibuja la siguiente figura empleando la herramienta RASTREO POLAR (RELATIVO AL ULTIMO SEGMENTO).

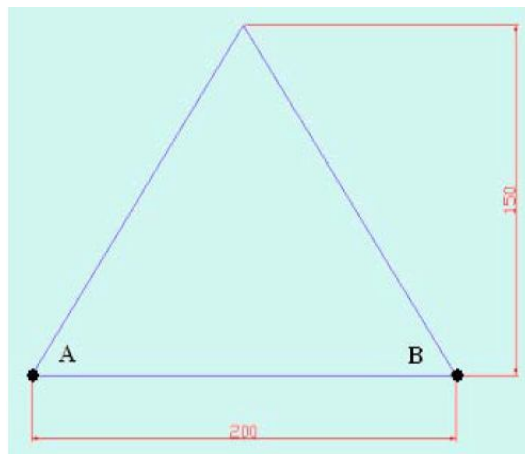


**EJERCICIO N° 5:**

Dibuja la siguiente figura empleando la herramienta REFENT.

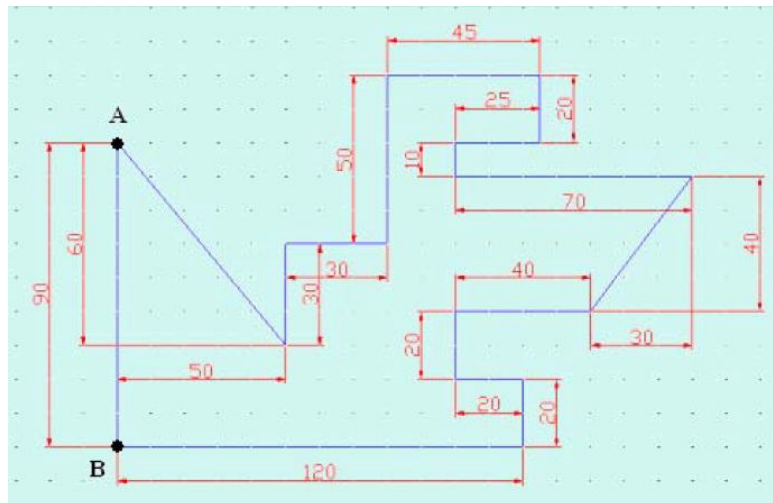
**EJERCICIO N° 6:**

Dibuja la siguiente figura empleando las herramientas REFENT y RASTREO.

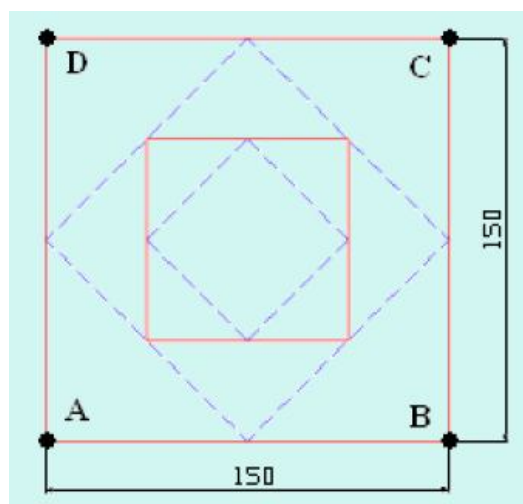


**EJERCICIO N° 7:**

Dibuja la siguiente figura empleando la herramienta ORTO

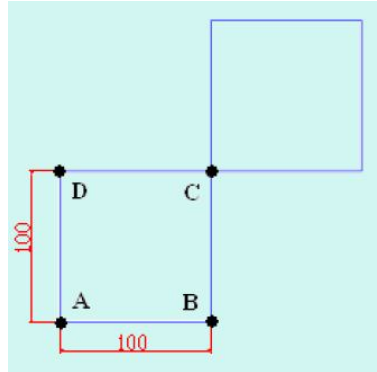
**EJERCICIO N° 9:**

Dibuja la siguiente figura empleando MODOS DE DESIGNACION DE OBJETOS y ADMINISTRACION DE CAPAS.

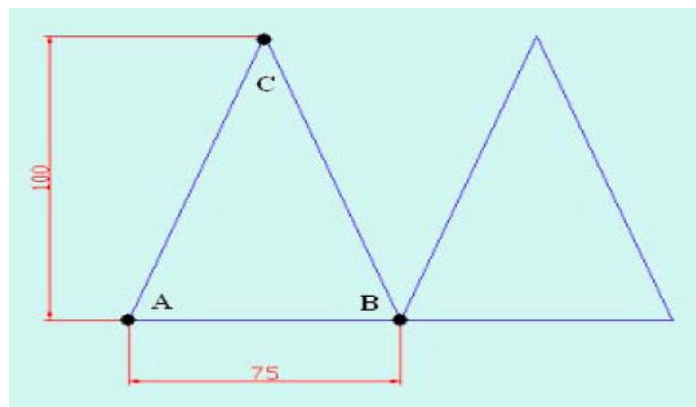


**EJERCICIO N° 10:**

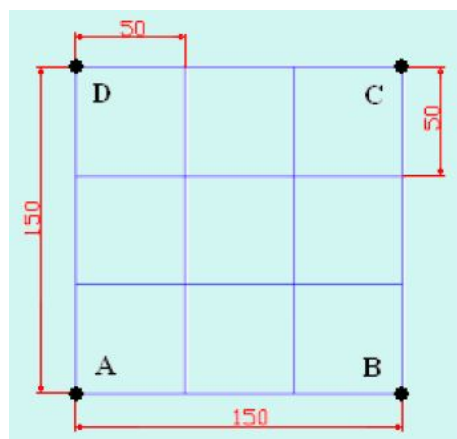
Dibuja la siguiente figura empleándola herramienta COPIA.

**EJERCICIO N° 11:**

Dibuja la siguiente figura empleándola herramienta SIMETRIA.

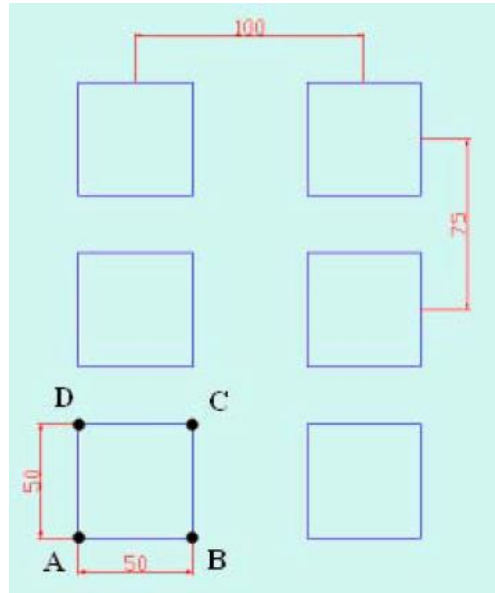
**EJERCICIO N° 12:**

Dibuja la siguiente figura empleándola herramienta DESFASE.

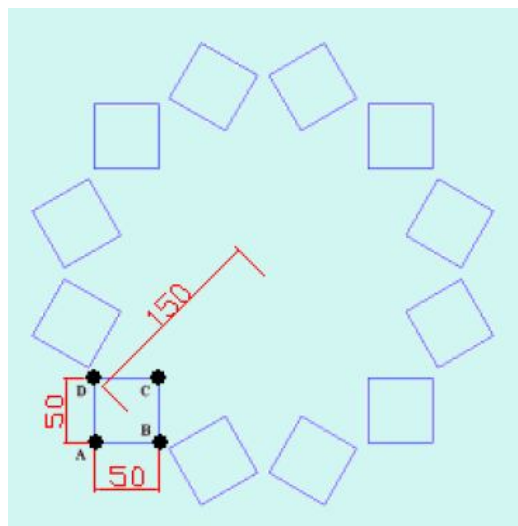


**EJERCICIO N° 13:**

Dibuja la siguiente figura empleándola herramienta MATRIZ RECTANGULAR.

**EJERCICIO N° 14:**

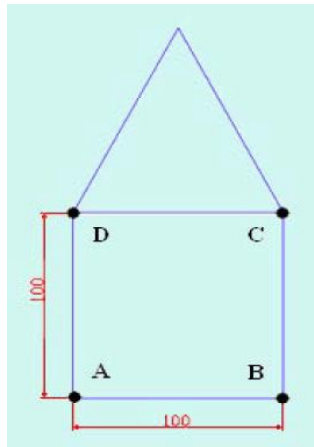
Dibuja la siguiente figura empleándola herramienta MATRIZ POLAR.



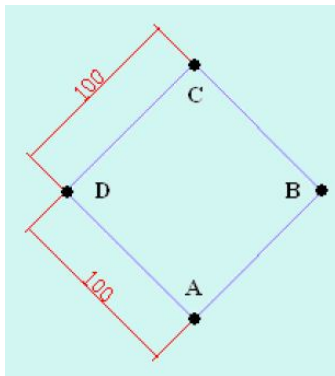


**EJERCICIO N° 15:**

Dibuja la siguiente figura empleándola herramienta DESPLAZA:

**EJERCICIO N° 16:**

Dibuja la siguiente figura empleando la herramienta GIRA:

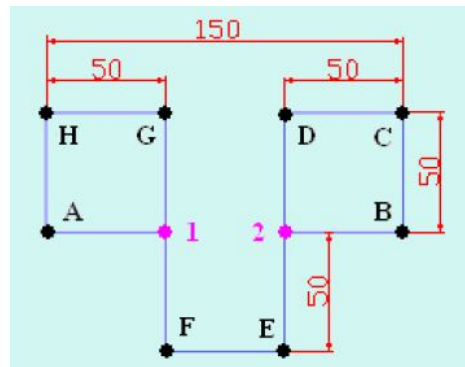
**EJERCICIO N° 17:**

Dibuja la siguiente figura empleando la herramienta ESTIRA:

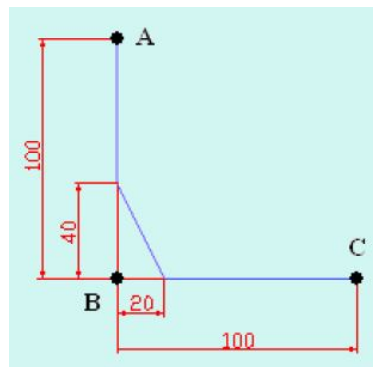


**EJERCICIO N° 18:**

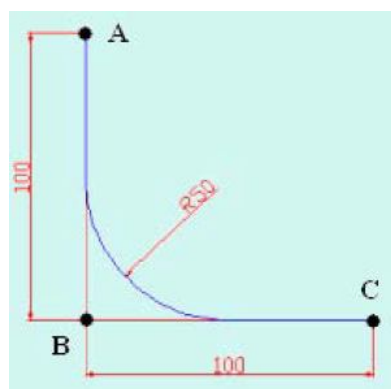
Dibuja la siguiente figura empleando la herramienta PARTE:

**EJERCICIO N° 19:**

Dibuja la siguiente figura empleando la herramienta CHAFLAN:

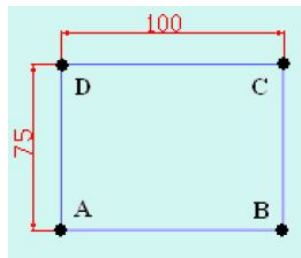
**EJERCICIO N° 20:**

Dibuja la siguiente figura empleando la herramienta EMPALME:

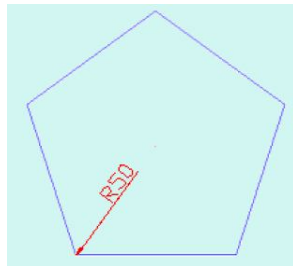


**EJERCICIO N° 21:**

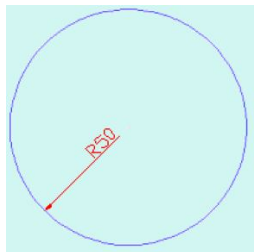
Dibuja la siguiente figura empleando la herramienta RECTANG:

**EJERCICIO N° 22:**

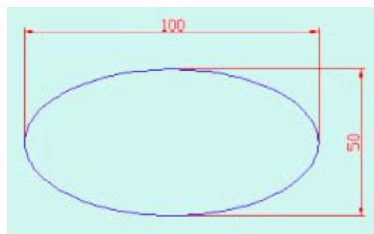
Dibuja la siguiente figura empleando la herramienta POLIGONO:

**EJERCICIO N° 23:**

Dibuja la siguiente figura empleando la herramienta CIRCULO:

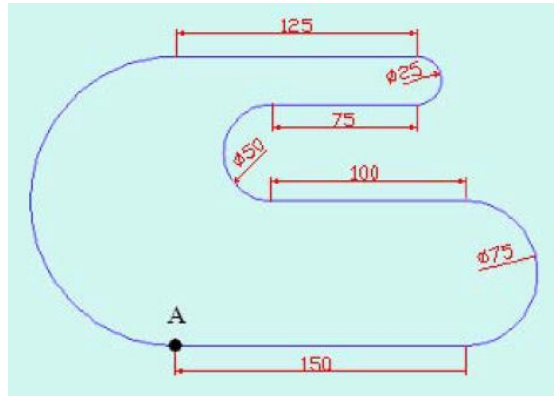
**EJERCICIO N° 24:**

Dibuja la siguiente figura empleando la herramienta ELIPSE:

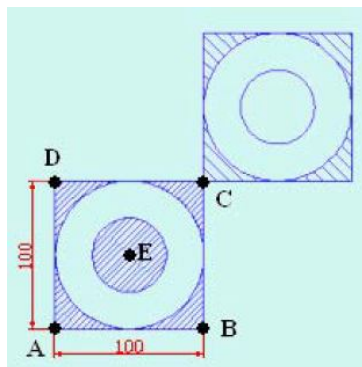


**EJERCICIO N° 25:**

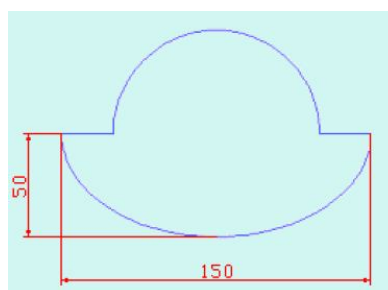
Dibuja la siguiente figura empleando la herramienta POL:

**EJERCICIO N° 26:**

Dibuja la siguiente figura empleando la herramienta SOMBCONT:

**EJERCICIO N° 27:**

Dibuja la siguiente figura empleando la herramienta REGION:

**EJERCICIO N° 28: ACOTACION.**